

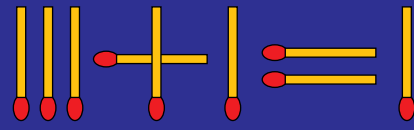
7 problèmes par semaine



Semaine 36

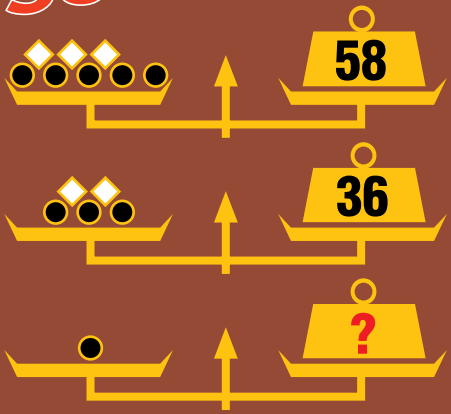
2

Déplacer 1 allumette

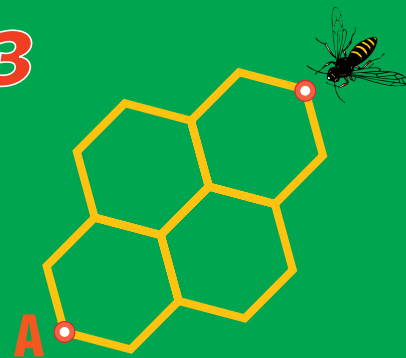


pour rendre l'égalité vraie (en chiffres romains).

30



3



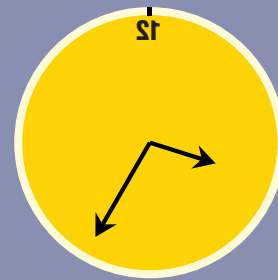
Combien de plus courts chemins jusqu'à A ?

31

Quel est le nombre maximum de points d'intersection définis par 2 droites et 2 cercles ?


4

Dans mon miroir, je vois l'horloge.



Quelle heure est-il ?

1



Nombre de rectangles ?

5

Quel est le plus petit ?

0,9

0,8

0,726

0,81

0,801

0,75