


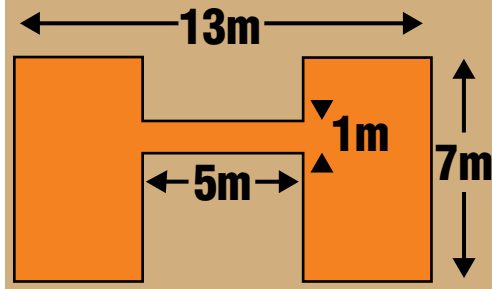
7 problèmes par semaine



Semaine 23

3

Aire ?



31

Voici 2 vues d'un cube "arc-en-ciel"




Quelle est la face opposée à la jaune ?

4

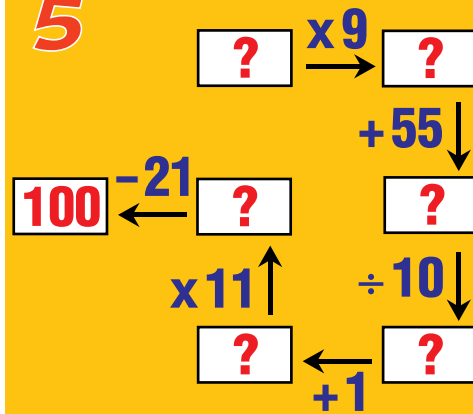
Le produit de mes trois chiffres vaut 12 et leur somme 8. Qui puis-je être ?

1



Nombre de triangles ?

5



2

Quelle est la différence entre le plus petit nombre à n chiffres et le plus grand nombre à $(n-1)$ chiffres ?

6

Dans ce cadre, il y a
 ___ chiffre(s) 2
 ___ chiffre(s) 4
 1 chiffre 8
 (compléter les 2 lignes en écrivant 2 chiffres)