


7 problèmes par semaine



Semaine 22

27

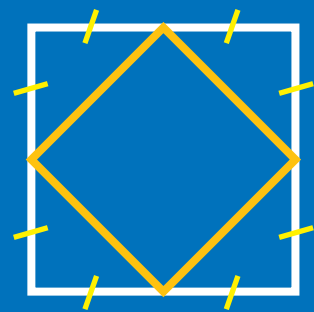
Combien de faces possède une pyramide avec 172 arêtes ?

24

Trouver 3 nombres de 3 chiffres qui ont la propriété suivante : Si je barre le chiffre du milieu, le nombre est divisé par 9.

28

L'aire du grand carré



est 200 cm², quel est le périmètre du petit ?

25

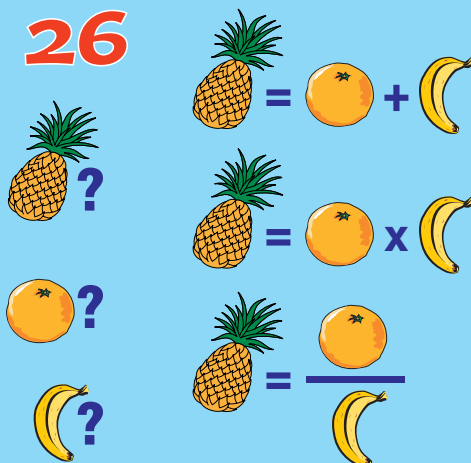
$$\frac{15}{23} < \frac{?}{41} < \frac{51}{77}$$

29



En Kayak, je mets 1 min 20s pour descendre 792 m de rivière et 12 min pour la remonter. Vitesse du courant ?

26



30

De zéro à un milliard, écrit en lettres, quel est le nombre avec le plus de « C » ?