

7 problèmes par semaine




Semaine 21

20

$\boxed{?} \xrightarrow{+1} \boxed{?}$
 $\downarrow \times 2$
 $\boxed{?} \xleftarrow{\div 3} \boxed{?}$
 $\downarrow -10$ $-3 \uparrow$ $\downarrow -4$
 $\boxed{1}$ $\boxed{?}$ $\xleftarrow{\times 2} \boxed{?}$

17

54 véhicules
184 roues.

Combien d'autos ?
Combien de motos ?

21 Changer une lettre à la fois en formant des mots.

SEPT ▶ ▶

◀

◻
HUIT

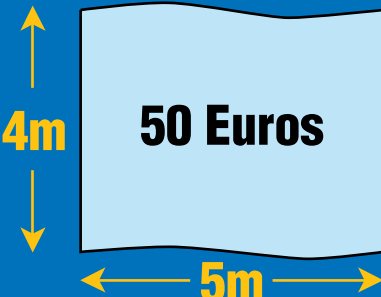
18

Où peut-on dire que $330 = 30$


?

22

$1 \text{ m}^2 = ? \text{ Euros}$



19 Si je te donne 15 billes, nous en aurons le même nombre. Ensemble, nous en avons 80. Combien en as-tu ?



23 Nous en avons autant l'un que l'autre, mais, si tu m'en donnes 2, il m'en manque 1 pour en avoir deux fois plus que toi ! Combien en avons-nous ?