

7 problèmes par semaine



Semaine 6

1

Dans ce
cadre, il y a


.....
voyelles.

(écrire le nombre
en lettres)

4

C'est l'anniversaire
de Mamie qui a
2 petits-fils
de 34 et 36 ans.
Quand elle aura 94 ans
la somme des âges
de ses petits-fils
fera aussi 94.
Quel âge a-t-elle ?

5




Somme des
chiffres : 11

Somme des
chiffres : 5

Multiple
de 40

Multiple
de 35

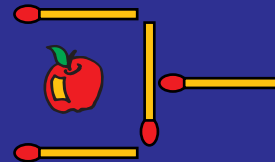
2



Nombre de triangles ?

6

Déplacer
2 allumettes



pour que la pomme
soit hors de la pelle.

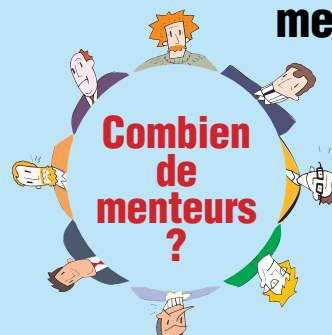
3

La somme de nos
deux chiffres est 5
et leur produit 6.

Qui sommes-nous?

7

Chacun dit :
"Mon voisin de droite
ment."



Combien
de menteurs
?