


7 problèmes par semaine



Semaine 5

28


Ces quatre dés sont identiques.



Quelle est la couleur sous le dernier cube ?

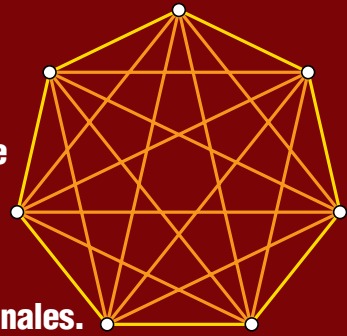
25

10 droites sont tracées.
Nombre de points d'intersection au plus ?



29

Un polygone de 7 côtés a 14 diagonales.



Nombre de diagonales d'un polygone de 100 côtés ?

26



Quelle multiplication de 3 nombres pour obtenir 1001 ?

30

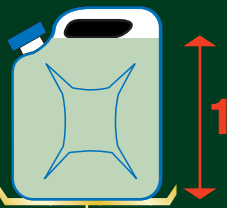
8 poules ont pondu 8 œufs en 8 jours.



Nombre d'œufs pondus par 4 poules en 4 jours ?

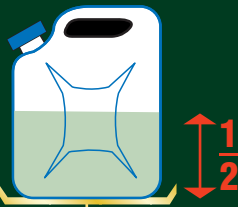
27

34 kg



Poids du bidon vide ?

17,5 kg



31

Placer les nombres de 1 à 12 de sorte que les 6 sommes de nombres "alignés" soient égales.

