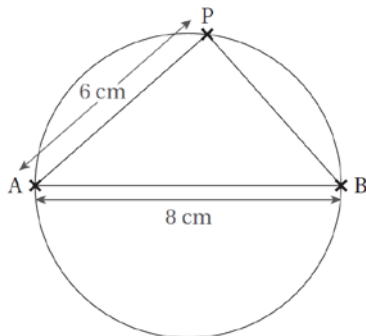


Solution de *Je prépare le contrôle* (p. 455)

47

a.



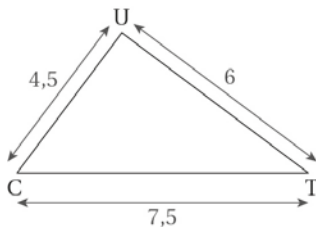
échelle : 1/2

b. P appartient au cercle de diamètre [AB] donc ABP est rectangle en P.

c. ABP est rectangle en P. La médiane issue de l'angle droit mesure la moitié de l'hypoténuse donc la médiane issue de P mesure 4 cm.

48

a.



échelle : 1/2

b. Le plus grand côté est [CT]

$$CT^2 = 7,5^2 = 56,25$$

$$TU^2 + UC^2 = 6^2 + 4,5^2 = 36 + 20,25$$

$$TU^2 + UC^2 = 56,25$$

$$CT^2 = TU^2 + UC^2$$

donc TUC est rectangle en U.

49

C appartient au cercle de diamètre [AB]

$$\text{donc } \widehat{ACB} = 90^\circ$$

D appartient au cercle de diamètre [AB]

$$\text{donc } \widehat{ADB} = 90^\circ$$

On appelle O le point d'intersection de (AD) et (BC)

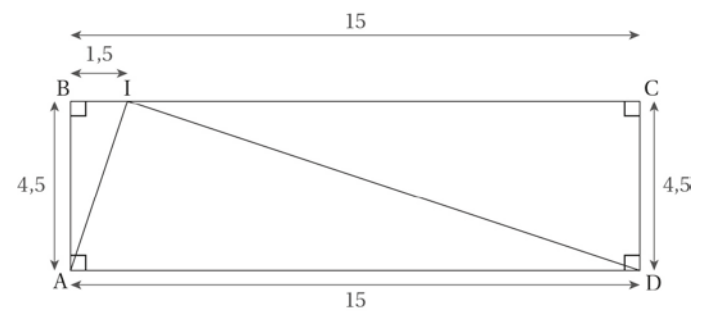
$\widehat{COA} = \widehat{DOB}$ car ils sont opposés par le sommet.

$$\widehat{CAD} = 180 - (90 + \widehat{COA})$$

$$\widehat{CAD} = 180 - (90 + \widehat{DOB}) = \widehat{DBC}$$

50

a.



échelle : 1/2

b. Dans le triangle ABI rectangle en A, d'après l'égalité de Pythagore, on a :

$$AI^2 = AB^2 + BI^2 = 4,5^2 + 1,5^2$$

$$= 20,25 + 2,25 = 22,5$$

Dans le triangle CDI rectangle en C, d'après l'égalité de Pythagore, on a :

$$DI^2 = CD^2 + CI^2 = 4,5^2 + 13,5^2$$

$$DI^2 = 20,25 + 182,25 = 202,5$$

Dans le triangle ADI, le plus grand côté est [AD]

$$AD^2 = 15^2 = 225$$

$$AI^2 + DI^2 = 22,5 + 202,5 = 225$$

$$AD^2 = AI^2 + DI^2$$

donc AID est rectangle en I.

51

a. Dans le triangle ABC, le plus grand côté est [AB]

$$AB^2 = 10^2 = 100$$

$$AC^2 + BC^2 = 8^2 + 6^2 = 64 + 36 = 100$$

$AB^2 = AC^2 + BC^2$ donc ABC est rectangle en C.

b. ABC est un triangle rectangle en C donc

$$\mathcal{A}_{ABC} = AC \times BC \div 2 = 8 \times 6 \div 2 = 24 \text{ km}^2$$

Comme on a aussi : $\mathcal{A}_{ABC} = AB \times CH \div 2$, on en déduit que $10 \times CH \div 2 = 24 \text{ km}^2$

$$\text{soit } 5 \times CH = 24 \text{ km}^2$$

$$\text{donc } CH = 24 \div 5 = 4,8 \text{ km}$$

52

a. I appartient au cercle de diamètre [AO] donc AIO est rectangle en I.

J appartient au cercle de diamètre [AB]

donc ABJ est rectangle en J.

Comme A, I et J sont alignés, (IO) et (JB) sont perpendiculaires à la même droite donc (IO) et (JB) sont parallèles.

On peut donc appliquer le théorème de

$$\text{Thalès : } \frac{AI}{AJ} = \frac{AO}{AB} = \frac{IO}{JB}$$

Comme O est le milieu de [AB], on a :

$$\frac{AI}{AJ} = \frac{1}{2} = \frac{IO}{JB} \text{ donc I est le milieu de [AJ].}$$

b. Puisque AIO est rectangle en O,

d'après l'égalité de Pythagore, on a :

$$IO^2 = AO^2 - AI^2 = 10^2 - 8^2 = 100 - 64 = 36$$

$$\text{donc } IO = \sqrt{36} = 6 \text{ cm}$$

En reprenant l'égalité de Thalès, on a :

$$\frac{8}{AJ} = \frac{10}{20} = \frac{6}{JB} . \text{ Donc } JB = \frac{20 \times 6}{10} = 12 \text{ cm}$$